

NAMA PELAJAR : .....

KELAS : .....



**SMK TAMAN SELESA JAYA 2**  
**PEPERIKSAAN PERCUBAAN SPM 2022**

**SEJARAH**

**1249/1**

**Kertas 1**

1 jam

Satu Jam

---

**JANGAN BUKA KERTAS SOALAN INI SEHINGGA DIBERITAHU**

1. *Kertas soalan ini mengandungi 40 soalan*
2. **Jawab semua soalan.**
3. *Tiap-tiap soalan diikuti oleh empat pilihan jawapan, iaitu **A, B, C dan D**. Bagi setiap soalan, pilih satu jawapan sahaja. **Hitamkan** jawapan anda pada kertas jawapan objektif yang disediakan.*
4. *Jika anda hendak menukarkan jawapan, padamkan tanda yang telah dibuat. Kemudian hitamkan jawapan yang baharu*

Disediakan oleh,

Disemak oleh,

Disahkan oleh,

.....  
(JULIA BT A RAHIM)  
GURU SEJARAH

.....  
((NORHAFIZA BT. ZAKARIA)  
KP SEJARAH MA

.....  
(CHANDRATHEVY A/P KUPPUSAMY)  
GURU KANAN SAINS  
KEMASYARAKATAN

---

Kertas soalan ini mengandungi 10 halaman bercetak

1. Kesultanan Melayu Melaka telah mempunyai ciri negara bangsa berikut.

Kerajaan

Apakah bukti menyokong pernyataan tersebut?

- A. Kewujudan raja
  - B. Ketaatan rakyat
  - C. Kewujudan pembesar
  - D. Kemajuan perdagangan
2. Peranan pembesar dalam Kesultanan Melayu Melaka ialah mengutip hasil daripada rakyat. Bagaimanakah kutipan hasil tersebut dilakukan?
- A. Sistem paksa
  - B. Sistem serah
  - C. Sistem kerah
  - D. Sistem titah
3. Bagaimanakah Jose Rizal mendesak kerajaan Sepanyol melakukan perubahan politik dan ekonomi di Filipina?
- A. Menubuhkan Katipunan
  - B. Membentuk Liga Filipina
  - C. Melancarkan revolusi bersenjata
  - D. Menyebarkan fahaman melalui akhbar
4. Sistem pendidikan pada zaman penjajah telah membangkitkan semangat nasionalisme di Tanah Melayu.
- Mengapakah keadaan tersebut berlaku?
- A. Kewujudan golongan bangsawan
  - B. Kepelbagaian sukatan mata pelajaran
  - C. Kemunculan ramai golongan intelek
  - D. Kemasukan kaum imigran tidak terkawal
5. Maklumat berikut menunjukkan pakatan yang terlibat dalam Perang Dunia Pertama.
- Apakah matlamat pakatan tersebut?
- I. Menentang dasar apartheid
  - II. Menghapuskan keganasan
  - III. Memperluaskan pengaruh
  - IV. Menguasai pasaran
- A. I dan II
  - B. I dan IV
  - C. II dan III
  - D. III dan IV

6. Pentadbiran tentera Jepun telah memperkenalkan kempen berikut di Tanah Melayu.

“Tambah Lebih Banyak Makanan”

Apakah kesan kempen tersebut terhadap penduduk tempatan?

- A. Kreatif dalam kehidupan
- B. Kadar kematian meningkat
- C. Kelangsungan hidup terjejas
- D. Kekurangan sumber makanan

7. Mengapakah British menubuhkan pentadbiran berikut di Tanah Melayu?

British Military Administration (BMA)

- I. Memberi latihan kepimpinan
- II. Melaksanakan ekonomi kawalan
- III. Memulihkan kepercayaan rakyat
- IV. Mengembalikan kestabilan negara

- A. I dan II
- B. I dan IV
- C. II dan III
- D. III dan IV

8. Jadual berikut menunjukkan usaha orang Melayu menentang Malayan Union.

<b>Tarikh</b>	1 - 4 Mac 1946
<b>Peristiwa</b>	Kongres Melayu Pertama
<b>Tempat</b>	Kelab Sultan Sulaiman, Kuala Lumpur

Apakah kepentingan peristiwa tersebut?

- A. Perasaan perkauman terhapus
- B. Memupuk perpaduan orang Melayu
- C. Status quo orang Melayu terpelihara
- D. Menjamin kedudukan Raja-raja Melayu

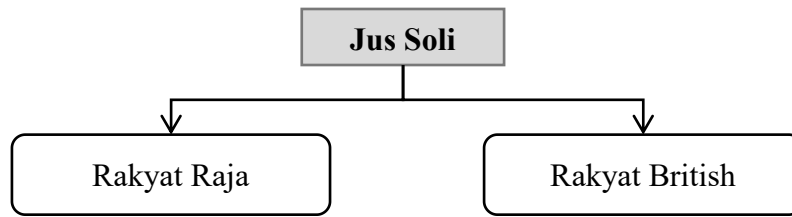
9. Maklumat berikut berkaitan dengan peristiwa yang berlaku di Tanah Melayu.

British bersetuju membubarkan Malayan Union dan menggantikannya dengan Persekutuan Tanah Melayu pada 1 Februari 1948.

Mengapakah British bersetuju melakukan perubahan tersebut?

- A. Permintaan orang dagang
- B. Peperangan dengan Jepun
- C. Penentangan orang Melayu
- D. Pelancaran revolusi bersenjata

10. Rajah berikut menunjukkan kewarganegaraan yang ditetapkan dalam Perjanjian Persekutuan Tanah Melayu 1948.



Apakah ciri-ciri Rakyat Raja?

- A. Golongan Raja-raja Melayu
  - B. Waris Kesultanan Melayu Melaka
  - C. Orang Melayu yang lahir di negeri Melayu
  - D. Sesiapan yang mendapat perkenan raja
11. Gambar berikut berkaitan dengan kerosakan yang dilakukan oleh komunis Tanah Melayu.




Mengapakah mereka bertindak demikian?

- I. Menamatkan Melayan Union
  - II. Menentang pentadbiran Jepun
  - III. Menubuhkan kerajaan republik
  - IV. Melumpuhkan ekonomi negara
- A. I dan II
  - B. I dan IV
  - C. II dan III
  - D. III dan IV

12. Apakah tugas Pasukan Polis Hutan?
- A. Melatih anggota polis baharu
  - B. Menjadi badan perisik komunis
  - C. Melindungi pekerja di ladang teh
  - D. Membuat rondaan di pinggir hutan

13. Apakah cadangan Dato' Onn Jaafar bagi mengatasi kekurangan pegawai tempatan dalam perkhidmatan kerajaan?
- A. Pelaksanaan Sistem Ahli
  - B. Kemasukan golongan imigran
  - C. Pengenalan sistem demokrasi
  - D. Kelonggaran syarat kerakyatan

14. Apakah parti politik yang menggunakan logo berikut?



Kapal Layar

- A. Parti Negara
  - B. Parti Perikatan
  - C. Parti Kemerdekaan Malaya
  - D. Parti Islam Se-Tanah Melayu
15. Apakah isu utama yang perlu disepakati sebelum Pilihan Raya Umum Pertama?
- A. Bilangan ahli MPP
  - B. Lokasi pilihan raya
  - C. Syarat menjadi calon
  - D. Syarat umur pengundi
16. Apakah peranan Majlis Perundangan Persekutuan pada peringkat Persekutuan Tanah Melayu?
- A. Mengambil alih tugas pentadbiran
  - B. Membina negara bangsa yang utuh
  - C. Memajukan sektor pertanian negara
  - D. Menggubal perundangan pentadbiran
17. Suruhanjaya Reid mencadangkan satu jawatan bagi ketua negara. Apakah jawatan tersebut?
- A. Yamtuan Besar
  - B. Raja Berpelembagaan
  - C. Yang di-Pertuan Agong
  - D. Yang di-Pertuan Negeri

18. Pernyataan berikut berkaitan dengan kedudukan agama Islam.

Agama Islam ialah agama rasmi Persekutuan.

Apakah bukti pernyataan tersebut?

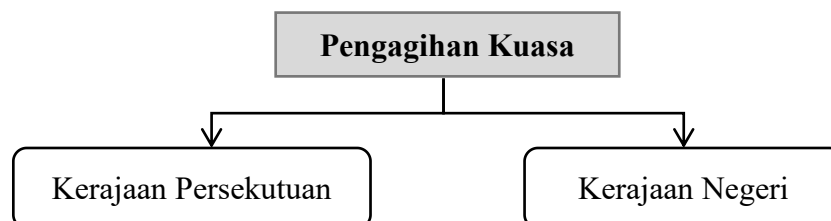
- A. Tanah Melayu mempunyai ramai orang Islam
  - B. Agama Islam telah disebarkan oleh pedagang
  - C. Termaktub dalam Perlembagaan Persekutuan
  - D. Melaka menjadi pusat penyebaran agama Islam
19. Jawatankuasa Persediaan Fizikal ditubuhkan sebagai persediaan menyambut kemasyhuran kemerdekaan negara.  
Mengapakah kerajaan menubuhkan jawatankuasa tersebut?
- A. Mewujudkan identiti negara yang merdeka
  - B. Menyebarkan risalah kepada penduduk
  - C. Menyediakan pelbagai kemudahan asas
  - D. Menerima cadangan atur cara sambutan
20. Perkara berikut berkaitan dengan penyertaan PTM di peringkat dunia selepas merdeka.

Blok Sterling

Apakah kepentingan negara menyertai blok tersebut?

- A. Memupuk kesejahteraan dunia
  - B. Menjamin keselamatan negara
  - C. Memelihara kepentingan nasional
  - D. Menggalakkan pembangunan ekonomi
21. Apakah peranan utama Yang di-Pertuan Agong dalam pentadbiran negara?
- |                           |                           |
|---------------------------|---------------------------|
| A. Ketua Kerajaan         | C. Ketua Utama Negara     |
| B. Ketua Institusi Beraja | D. Ketua Pentadbir Negara |

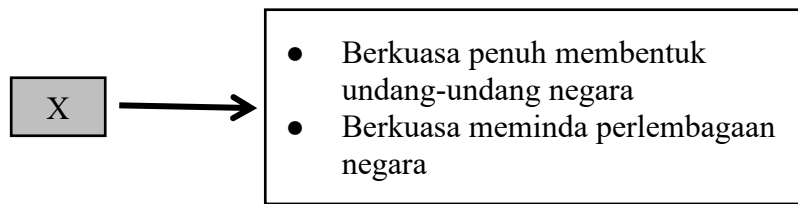
22. Rajah berikut menunjukkan peruntukan kuasa dalam Perlembagaan Malaysia.



Apakah kesan daripada pengagihan kuasa tersebut?

- A. Mengekalkan warisan tradisi
- B. Melancarkan pentadbiran negara
- C. Mengukuhkan sistem percukaian
- D. Mengelakkan rusuhan kaum

23. Rajah berikut berkaitan dengan penggubalan Perlembagaan Persekutuan.



Apakah X?

- |                    |                |
|--------------------|----------------|
| A. Badan Kehakiman | C. Suruhanjaya |
| B. Kementerian     | D. Parlimen    |

24. Bagaimanakah taraf kewarganegaraan yang sama diberi kepada rakyat di Tanah Melayu?

- I. Kemerdekaan Tanah Melayu
- II. Pembentukan Malaysia
- III. Pembatalan Malayan Union
- IV. Penubuhan Badan Kehakiman

- |             |               |
|-------------|---------------|
| A. I dan II | C. II dan III |
| B. I dan IV | D. III dan IV |

25. Berikut adalah majlis yang dibentuk selepas penubuhan Negeri-negeri Melayu Bersekutu 1897.

DURBAR

Apakah fungsi majlis tersebut?

- A. Membincangkan hal agamadan adat
- B. Membincangkan hal ehwal pentadbiran
- C. Menggubal undang-undang persekutuan
- D. Melantik ahli Jemaah Menteri persekutuan

26. Gambar menunjukkan hierarki badan kehakiman di Malaysia.



Mengapakah sistem mahkamah di Malaysia disusun mengikut hierarki piramid?

- A. Membezakan status hakim yang berkhidmat
- B. Membuat rayuan ke mahkamah lebih tinggi
- C. Mendapatkan perkhidmatan kehakiman yang luas
- D. Melicinkan pentadbiran badan kehakiman

27. Apakah kebaikan pelaksanaan pembahagian kuasa antara Kerajaan Persekutuan dan Kerajaan Negeri?
- A. Menjamin keselamatan perairan negara
  - B. Mendapat pengiktirafan dari negara luar
  - C. Menyeragamkan undang-undang negara
  - D. Mengelakkan permasalahan antara kerajaan
28. Kerajaan telah menubuhkan Lembaga Kemajuan Tanah Persekutuan (FELDA) pada tahun 1956. Mengapakah agensi tersebut ditubuhkan?
- A. Menyusun semula masyarakat
  - B. Mempelbagaikan hasil pertanian
  - C. Meningkatkan kemajuan ekonomi
  - D. Membangunkan tanah baharu
29. Mengapakah British mengemukakan idea penyatuan wilayah penguasaan British di Asia Tenggara?
- A. Memupuk perpaduan
  - B. Melakukan imperialisme
  - C. Memudahkan pentadbiran
  - D. Melaksanakan pemodenan
30. Senarai berikut merujuk kepada pemimpin Persekutuan Tanah Melayu yang terlibat dalam lawatan rombongan ke Sarawak dan Sabah.
- Apakah matlamat lawatan rombongan tersebut?
- I. Menjelaskan tujuan rancangan pembentukan Malaysia
  - II. Menunjukkan kesepakatan ahli politik di Tanah Melayu
  - III. Mengatur rancangan serangan balas terhadap Indonesia
  - IV. Meninjau perkembangan ekonomi di kawasan pendalaman
- A. I dan II
  - B. I dan IV
  - C. II dan III
  - D. III dan IV
31. Apakah maksud konsep berikut?
- Beberapa negara menghapuskan cukai antara mereka dan mengenakan cukai import yang sama terhadap negara lain.
- A. Sekatan ekonomi
  - B. Pelabuhan bebas
  - C. Pasaran bersama
  - D. Ekonomi dagangan
32. Apakah gelaran bagi kawasan yang bebas daripada ancaman komunis?
- A. Kawasan putih
  - B. Kawasan hitam
  - C. Kawasan daulat
  - D. Kawasan bersih



33. Gambar berikut berkaitan dengan Dewan Bahasa dan Pustaka (DBP).



Mengapakah kerajaan menubuhkan DBP pada 22 Jun 1956?

- A. Meningkatkan kadar celik huruf
- B. Menggalakkan kemasukan pelajar asing
- C. Meningkatkan kemahiran pelbagai bahasa
- D. Memperkasa kedudukan bahasa kebangsaan

34. Dialog berikut mungkin berlakusemasa kejohanan Piala Thomas.

<p><b>Penonton I :</b> Saya bangga dengan slogan “Malaysia Boleh”.</p> <p><b>Penonton II :</b> Saya juga pasti menggunakan slogan ini.</p> <p><b>Penonton III :</b> Slogan ini dapat membantu atlet kita.</p>
---

Apakah nilai yang diperolehi daripada slogan tersebut?

- A. Bekerjasama
- B. Semangat kental
- C. Berpandangan jauh
- D. Hormat-menghormati

35. Pernyataan berikut merujuk kepada keadaan di negara kita selepas kemerdekaan.

<p>Kaum bumiputera ketinggalan pemilikan saham syarikat berbanding dengan kaum bukan bumiputera</p>
---

Apakah kesan keadaan tersebut terhaap negara?

- A. Membangkitkan persaingan sihat antara kaum
- B. Menambahkan tenaga kerja dalam bidang pembuatan
- C. Mewujudkan perbezaan dari segi taraf hidup
- D. Meningkatkan permintaan terhadap kursus kemahiran

36. DPN menetapkan langkah untuk Malaysia menjadi negara yang maju.

Apakah aspek negara maju tersebut?

- A. Kestabilan politik
- B. Bersikap demokratik
- C. Berilmu pengetahuan
- D. Kecemerlangan sosial

37. Maklumat berikut berkaitan dengan perenggubalan dasar luar Malaysia.

- Dasar Probarat
- Dasar terbaik-baik dengan semua negara

Apakah kebaikan dasar luar tersebut terhadap negara?

- A. Menjamin keselamatan negara
- B. Menyelaraskan bantuan teknikal
- C. Memantapkan struktur pentadbiran
- D. Menghapuskan sekatan perdagangan

38. Apakah matlamat penubuhan Pertubuhan Bangsa-Bangsa Bersatu (PBB)?

- A. Mengekalkan keamanan dunia
- B. Memajukan kegiatan perdagangan
- C. Memperkukuhkan perpaduan rakyat
- D. Memperluaskan kawasan pemerintahan

39. Malaysia telah menjadikan ASEAN untuk mengisytiharkan perubahan dasar luar negara pada peringkat serantau dan global.

Apakah kuasa besar yang menyokong pengisytiharan tersebut?

- I. Rusia
- II. Sepanyol
- III. Afrika Selatan
- IV. Amerika Syarikat

- A. I dan II
- B. I dan IV
- C. II dan III
- D. III dan IV

40. Apakah persamaan peranan pertubuhan berikut?

- American Soybean Association (ASA)
- Pihak NGO Pencinta Alam di Eropah

- A. Mengatasi isu pemerdagangan manusia
- B. Menggubalkan undang-undang berkaitan alam sekitar
- C. Menjalankan gerakan antiminyak kelapa sawit
- D. Memberi maklumat berkaitan penyalahgunaan dadah

**KERTAS PEPERIKSAAN TAMAT**